

# Topografie Nederland

Leer- en oefenboek (1)



© 2019 Junior Einstein bv Enschede, the Netherlands

Behoudens de in of krachtens de Auteurswet van 1912 gestelde uitzonderingen mag niets uit deze uitgave worden verveelvoudigd, opgeslagen in een geautomatiseerd gegevensbestand, of openbaar gemaakt, in enige vorm of op enige wijze, hetzij elektronisch, mechanisch door fotokopieën, opnamen of enig andere manier, zonder voorafgaande schriftelijke toestemming van de uitgever.

Voor zover het maken van kopieën uit deze uitgave is toegestaan op grond van artikelen 16h t/m 16m Auteurswet 1912 jo. Besluit van 27 november 2002, Stb 575, dient men de daarvoor wettelijk verschuldigde vergoeding te voldoen aan de Stichting Reprorecht te Hoofddorp (postbus 3060, 2130 KB, [www.reprorecht.nl](http://www.reprorecht.nl)) of contact op te nemen met de uitgever voor het treffen van een rechtstreekse regeling in de zin van art. 16l, vijfde lid, Auteurswet 1912. Voor het overnemen van gedeelte(n) uit deze uitgave in bloemlezingen, readers en andere compilatiewerken (artikel 16, Auteurswet 1912) kan men zich wenden tot de Stichting PRO (Stichting Publicatie- en Reproductierechten, postbus 3060, 2130 KB Hoofddorp). v. 01

*All rights reserved. No part of this book may be reproduced in any way whatsoever without the written permission of the publisher.*

ISBN 978-94-93128-37-8

# Inhoudsopgave

**Nederland** 4

**Noord-Nederland** 20

**Oost-Nederland** 26

**Zuid-Nederland** 32

**West-Nederland** 38

**Bekende plekken** 44

**Laat het zien** 46

**Antwoorden** 47

# Nederland: provincies



## Provincies

Drenthe  
Flevoland  
Friesland

Gelderland  
Groningen  
Limburg

Noord-Brabant  
Noord-Holland  
Overijssel

Utrecht  
Zeeland  
Zuid-Holland

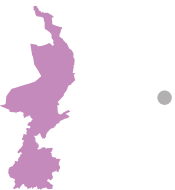


**1 Vul de namen op de goede plek in.**

1. \_\_\_\_\_
2. \_\_\_\_\_
3. \_\_\_\_\_
4. \_\_\_\_\_
5. \_\_\_\_\_
6. \_\_\_\_\_

7. \_\_\_\_\_
8. \_\_\_\_\_
9. \_\_\_\_\_
10. \_\_\_\_\_
11. \_\_\_\_\_
12. \_\_\_\_\_

**2 Welke provincies zie je? Trek een lijn van de provincie naar de juiste naam.**



Drenthe

Flevoland

Friesland

Gelderland

Groningen

Limburg

Noord-Holland

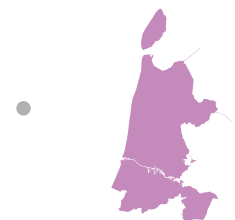
Noord-Brabant

Overijssel

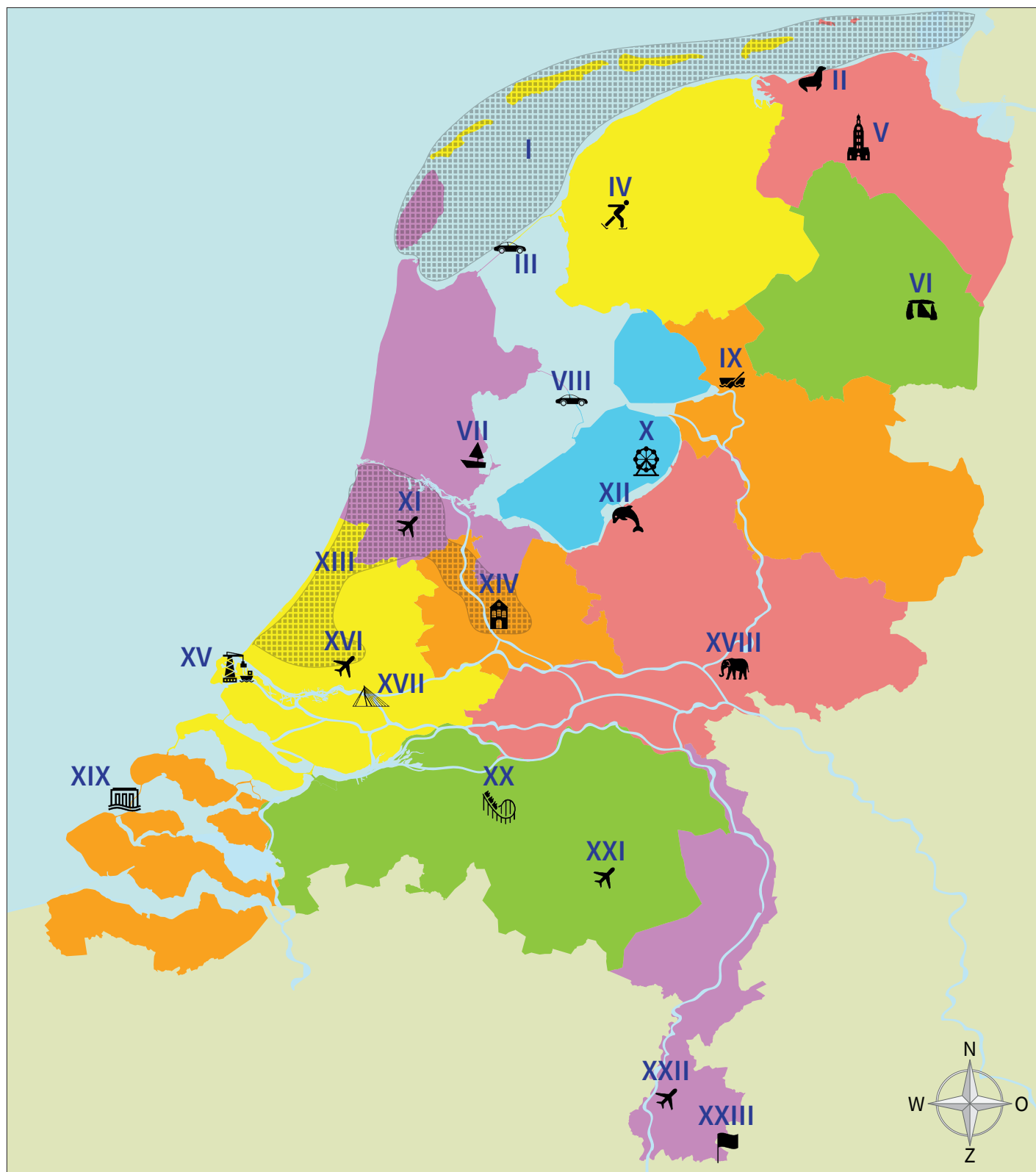
Utrecht

Zeeland

Zuid-Holland



# Nederland: bekende plekken



Afsluitdijk  
Burgers Zoo  
Deltawerken Neeltje  
Jans  
Dolfinarium  
Domtoren  
Drielandenpunt

Efteling  
Eindhoven Airport  
Elfstedentocht  
Erasmusbrug  
Giethoorn  
Haven van Rotterdam  
Hunebedden

Maastricht Airport  
Markerwaarddijk  
Martinitoren  
Randstad  
Rotterdam Den Haag  
Airport  
Schiphol

Volendam  
Waddengebied  
Walibi Holland  
Zeehondencentrum  
Pieterburen



## 1 Vul de namen op de goede plek in.

- I. \_\_\_\_\_
- II. \_\_\_\_\_
- III. \_\_\_\_\_
- IV. \_\_\_\_\_
- V. \_\_\_\_\_
- VI. \_\_\_\_\_
- VII. \_\_\_\_\_
- VIII. \_\_\_\_\_
- IX. \_\_\_\_\_
- X. \_\_\_\_\_
- XI. \_\_\_\_\_
- XII. \_\_\_\_\_
- XIII. \_\_\_\_\_
- XIV. \_\_\_\_\_
- XV. \_\_\_\_\_
- XVI. \_\_\_\_\_
- XVII. \_\_\_\_\_
- XVIII. \_\_\_\_\_
- XIX. \_\_\_\_\_
- XX. \_\_\_\_\_
- XXI. \_\_\_\_\_
- XXII. \_\_\_\_\_
- XXIII. \_\_\_\_\_

## 2 Beantwoord de vragen.

Welke twee provincies worden verbonden door de Afsluitdijk?

1. \_\_\_\_\_
2. \_\_\_\_\_

In welke vier provincies vind je een vliegveld op deze kaart?

1. \_\_\_\_\_
2. \_\_\_\_\_
3. \_\_\_\_\_
4. \_\_\_\_\_

Welke twee provincies worden verbonden door de Markerwaarddijk?

1. \_\_\_\_\_
2. \_\_\_\_\_

Bij welke drie provincies horen Wadden?

1. \_\_\_\_\_
2. \_\_\_\_\_
3. \_\_\_\_\_

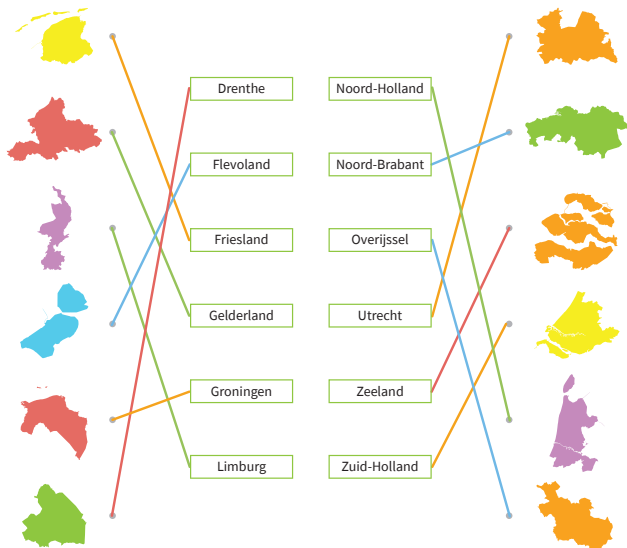
In welke drie provincies ligt de Randstad?

1. \_\_\_\_\_
2. \_\_\_\_\_
3. \_\_\_\_\_

**1 Vul de namen op de goede plek in.**

- |                         |                          |
|-------------------------|--------------------------|
| 1. <u>Friesland</u>     | 7. <u>Zuid-Holland</u>   |
| 2. <u>Groningen</u>     | 8. <u>Utrecht</u>        |
| 3. <u>Drenthe</u>       | 9. <u>Gelderland</u>     |
| 4. <u>Noord-Holland</u> | 10. <u>Zeeland</u>       |
| 5. <u>Flevoland</u>     | 11. <u>Noord-Brabant</u> |
| 6. <u>Overijssel</u>    | 12. <u>Limburg</u>       |

**2 Welke provincies zie je? Trek een lijn van de provincie naar de juiste naam.**



5

**1 Vul de namen op de goede plek in.**

- Leeuwarden
- Groningen
- Assen
- Haarlem
- Lelystad
- Zwolle
- Den Haag
- Utrecht
- Arnhem
- Middelburg
- 's-Hertogenbosch
- Maastricht
- Amsterdam

**2 Beantwoord de vragen.**

Welke hoofdstad ligt het meest noordelijk?

Groningen

Welke hoofdstad ligt het meest zuidelijk?

Maastricht

Welke hoofdstad ligt het meest westelijk?

Middelburg

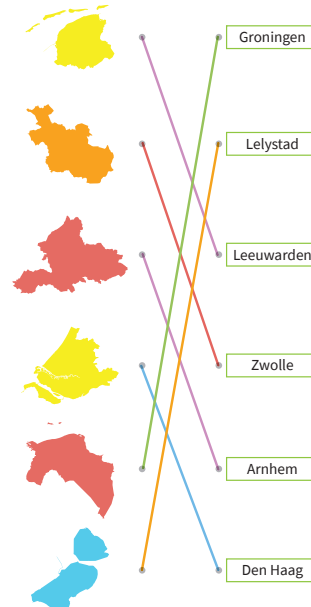
Wat is de hoofdstad van Nederland?

Amsterdam

**3 Welke hoofdsteden liggen ten zuiden van de hoofdstad Utrecht? Kruis aan.**

- |  |  |
|--|--|
| <input checked="" type="checkbox"/> Arnhem   | <input checked="" type="checkbox"/> Maastricht       |
| <input checked="" type="checkbox"/> Den Haag | <input checked="" type="checkbox"/> Middelburg       |
| <input type="checkbox"/> Groningen           | <input checked="" type="checkbox"/> 's-Hertogenbosch |
| <input type="checkbox"/> Leeuwarden          | <input type="checkbox"/> Zwolle                      |

**4 Trek een lijn tussen de provincie en de hoofdstad.**



7

**1 Vul de namen op de goede plek in.**

- |                             |                          |
|-----------------------------|--------------------------|
| 1. <u>Zeeland</u>           | 13. <u>Flevoland</u>     |
| 2. <u>Middelburg</u>        | 14. <u>Lelystad</u>      |
| 3. <u>Drenthe</u>           | 15. <u>Limburg</u>       |
| 4. <u>Assen</u>             | 16. <u>Maastricht</u>    |
| 5. <u>Gelderland</u>        | 17. <u>Utrecht</u>       |
| 6. <u>Arnhem</u>            | 18. <u>Utrecht</u>       |
| 7. <u>Friesland</u>         | 19. <u>Noord-Holland</u> |
| 8. <u>Leeuwarden</u>        | 20. <u>Haarlem</u>       |
| 9. <u>Groningen</u>         | 21. <u>Zuid-Holland</u>  |
| 10. <u>Groningen</u>        | 22. <u>Den Haag</u>      |
| 11. <u>Noord-Brabant</u>    | 23. <u>Overijssel</u>    |
| 12. <u>'s-Hertogenbosch</u> | 24. <u>Zwolle</u>        |

**2 Zet een rondje om het juiste antwoord.**

Limburg ligt in het **noorden** | **zuiden** van Nederland.

De hoofdstad Groningen ligt ten **oosten** | **noorden** van Assen.

Noord-Brabant grenst aan **Zeeland** | **Utrecht**.

Er zijn **twee** | **drie** hoofdsteden die dezelfde naam hebben als de provincie.

Het meest noordelijke puntje van Nederland ligt in de provincie **Friesland** | **Groningen**.

Haarlem ligt in het **oosten** | **westen** van Nederland.

Zuid-Holland grenst aan **vijf** | **zes** andere provincies.

**Zeeland en Noord-Holland** | **Friesland en Limburg** liggen aan zee.

Flevoland ligt ten **westen** | **oosten** van Overijssel.

's-Hertogenbosch ligt het dichtst in de buurt van **Assen** | **Arnhem**.

Het meest zuidelijke puntje van Nederland ligt in **Limburg** | **Zeeland**.

Den Haag ligt in het **oosten** | **westen** van Nederland.

9

**1 Vul de namen op de goede plek in.**

- |                       |                        |
|-----------------------|------------------------|
| 1. <u>Delfzijl</u>    | 21. <u>Delft</u>       |
| 2. <u>Den Helder</u>  | 22. <u>Gouda</u>       |
| 3. <u>Sneek</u>       | 23. <u>Rotterdam</u>   |
| 4. <u>Heerenveen</u>  | 24. <u>Spijkenisse</u> |
| 5. <u>Alkmaar</u>     | 25. <u>Dordrecht</u>   |
| 6. <u>Hloorn</u>      | 26. <u>Nijmegen</u>    |
| 7. <u>Meeppel</u>     | 27. <u>Oss</u>         |
| 8. <u>Hoogerveen</u>  | 28. <u>Ulsingen</u>    |
| 9. <u>Emmen</u>       | 29. <u>Goes</u>        |
| 10. <u>Almere</u>     | 30. <u>Terneuzen</u>   |
| 11. <u>Deventer</u>   | 31. <u>Roosendaal</u>  |
| 12. <u>Almelo</u>     | 32. <u>Breda</u>       |
| 13. <u>Hengelo</u>    | 33. <u>Tilburg</u>     |
| 14. <u>Enschede</u>   | 34. <u>Eindhoven</u>   |
| 15. <u>Amsterdam</u>  | 35. <u>Helmond</u>     |
| 16. <u>Blaricum</u>   | 36. <u>Utrecht</u>     |
| 17. <u>Amersfoort</u> | 37. <u>Roermond</u>    |
| 18. <u>Apeldoorn</u>  | 38. <u>Sittard</u>     |
| 19. <u>Leiden</u>     | 39. <u>Heerlen</u>     |
| 20. <u>Ede</u>        | 40. <u>Kerkrade</u>    |

Wist je dat de twee grootste steden in het westen van Nederland liggen? Amsterdam heeft bijvoorbeeld meer dan 800.000 inwoners! De op een na grootste stad heeft meer dan 600.000 inwoners. Weet jij welke stad dat is? Zet daar een rondje omheen.



11